

























NUMERATION 1		Série 26		Groupe 1
	Voici un nombre :	Quel nombre est juste avant ?		
			 	  
<b>1</b>	48	49	47	38
<b>2</b>	56	46	55	57
<b>3</b>	147	146	137	148
<b>4</b>	263	262	163	264
<b>5</b>	181	182	171	180
<b>6</b>	130	129	120	131
<b>7</b>	100	90	99	101
<b>8</b>	530	531	520	529
<b>9</b>	600	601	599	699
<b>10</b>	60	59	61	50
<b>11</b>	610	600	611	609
<b>12</b>	701	601	702	700

NUMERATION 2		Série 26		Groupe 2
	Voici un nombre :	Quel nombre est juste après ?		
			 	  
<b>1</b>	67	68	66	77
<b>2</b>	85	95	84	86
<b>3</b>	136	135	137	236
<b>4</b>	268	267	269	279
<b>5</b>	59	60	69	58
<b>6</b>	99	109	100	98
<b>7</b>	140	142	152	141
<b>8</b>	200	202	201	199
<b>9</b>	399	398	298	400
<b>10</b>	289	288	290	189
<b>11</b>	370	371	369	270
<b>12</b>	601	602	599	600

NUMERATION 3			Série 26	Groupe 3
	Voici un nombre :	Quel nombre est juste avant ?		
				
<b>1</b>	58	57	59	48
<b>2</b>	46	45	47	36
<b>3</b>	125	115	126	124
<b>4</b>	647	648	637	646
<b>5</b>	261	262	260	250
<b>6</b>	430	429	420	431
<b>7</b>	100	99	101	90
<b>8</b>	620	621	619	610
<b>9</b>	800	799	790	801
<b>10</b>	70	71	60	69
<b>11</b>	410	411	409	400
<b>12</b>	501	502	500	401

NUMERATION 4			Série 26	Groupe 4
	Voici un nombre :	Quel nombre est juste après ?		
				
<b>1</b>	76	75	77	86
<b>2</b>	45	55	44	46
<b>3</b>	153	152	154	143
<b>4</b>	372	472	373	382
<b>5</b>	89	90	91	79
<b>6</b>	170	169	171	180
<b>7</b>	99	101	98	100
<b>8</b>	400	500	501	401
<b>9</b>	699	700	701	690
<b>10</b>	489	490	500	488
<b>11</b>	650	750	660	651
<b>12</b>	301	302	300	299

NUMERATION 5			Série 26	Groupe 5
	Quel nombre compte exactement et uniquement ....			
<b>1</b>	4 dizaines et 6 unités	460	64	46
<b>2</b>	1 centaine et 3 dizaines	130	310	103
<b>3</b>	5 centaines et 1 dizaine	51	105	510
<b>4</b>	5 dizaines et 8 unités	508	85	58
<b>5</b>	1 centaine et 4 unités	41	104	410
<b>6</b>	5 centaines et 7 dizaines	750	75	670
<b>7</b>	8 unités et 3 dizaines	308	38	83
<b>8</b>	7 dizaines et 1 centaine	107	170	710
<b>9</b>	5 dizaines et 7 centaines	705	750	570
<b>10</b>	9 unités et 6 dizaines	609	96	69
<b>11</b>	9 dizaines et 8 centaines	98	890	980
<b>12</b>	9 unités et 5 centaines	95	509	590

NUMERATION 6			Série 26	Groupe 6
	Quel nombre compte exactement et uniquement ....			
<b>1</b>	3 dizaines et 2 unités	23	32	320
<b>2</b>	4 centaines et 5 dizaines	405	450	540
<b>3</b>	6 centaines et 7 unités	607	706	67
<b>4</b>	4 dizaines et 6 unités	46	64	406
<b>5</b>	1 dizaine et 9 unités	19	91	109
<b>6</b>	7 centaines et 3 unités	703	307	73
<b>7</b>	2 unités et 4 dizaines	420	42	24
<b>8</b>	6 dizaines et 8 centaines	86	680	860
<b>9</b>	3 unités et 9 centaines	903	309	93
<b>10</b>	7 unités et 4 dizaines	47	74	407
<b>11</b>	2 unités et 8 centaines	208	82	802
<b>12</b>	9 unités et 7 dizaines	709	97	79

NUMERATION 7			Série 26	Groupe 7
		☹	☹☹	☹☹☹
<b>1</b>	Le chiffre indiquant les centaines dans 347, c'est le...	7	4	3
<b>2</b>	Le chiffre indiquant les dizaines dans 347, c'est le...	7	3	4
<b>3</b>	Le chiffre indiquant les unités dans 347, c'est le...	3	7	4
<b>4</b>	Le chiffre indiquant les centaines dans 628, c'est le...	8	6	2
<b>5</b>	Le chiffre indiquant les dizaines dans 628, c'est le...	8	2	6
<b>6</b>	Le chiffre indiquant les centaines dans 475, c'est le...	7	5	4
<b>7</b>	Le chiffre indiquant les unités dans 754, c'est le...	7	5	4
<b>8</b>	Le chiffre indiquant les dizaines dans 567, c'est le...	6	5	7
<b>9</b>	Le chiffre indiquant les unités dans 765, c'est le...	7	5	6
<b>10</b>	Le chiffre indiquant les dizaines dans 328, c'est le...	8	2	3
<b>11</b>	Le chiffre indiquant les centaines dans 823, c'est le...	8	2	3
<b>12</b>	Le chiffre indiquant les dizaines dans 823, c'est le...	8	2	3

NUMERATION 8			Série 26	Groupe 8
	Dans la série (ascendante ou descendante), lequel n'est pas à sa place ?	☹	☹☹	☹☹☹
<b>1</b>	7    14    21    17    28    35    42    49	<b>17</b>	<b>21</b>	<b>28</b>
<b>2</b>	6    8    11    12    15    10    18    20	<b>15</b>	<b>10</b>	<b>12</b>
<b>3</b>	11    14    17    12    20    23    26    29	<b>20</b>	<b>17</b>	<b>12</b>
<b>4</b>	80    75    70    77    65    60    54    48	<b>77</b>	<b>54</b>	<b>70</b>
<b>5</b>	60    54    48    42    36    44    30    24	<b>42</b>	<b>36</b>	<b>44</b>
<b>6</b>	24    28    37    32    36    39    43    47	<b>39</b>	<b>37</b>	<b>32</b>
<b>7</b>	24    29    33    38    49    42    48    54	<b>42</b>	<b>49</b>	<b>48</b>
<b>8</b>	5    9    13    17    27    21    25    29	<b>27</b>	<b>21</b>	<b>17</b>
<b>9</b>	99    96    93    90    82    87    84    81	<b>84</b>	<b>87</b>	<b>82</b>
<b>10</b>	50    47    51    44    41    38    35    33	<b>47</b>	<b>41</b>	<b>51</b>
<b>11</b>	70    63    56    49    57    42    35    28	<b>49</b>	<b>57</b>	<b>42</b>
<b>12</b>	60    54    48    42    49    36    30    24	<b>36</b>	<b>42</b>	<b>49</b>

NUMERATION 9								Série 26	Groupe 9	
	Pour aller d'un nombre au suivant, quelle addition ou quelle soustraction faut-il faire ? Donc quel nombre continue la série ?							☹	☹ ☹	☹ ☹ ☹
<b>1</b>	3	6	9	12	15	18	...	<b>22</b>	<b>20</b>	<b>21</b>
<b>2</b>	4	8	12	16	20	24	...	<b>26</b>	<b>27</b>	<b>28</b>
<b>3</b>	50	47	44	41	38	35	...	<b>31</b>	<b>32</b>	<b>33</b>
<b>4</b>	60	56	52	48	44	40	...	<b>38</b>	<b>36</b>	<b>32</b>
<b>5</b>	5	15	25	35	45	55	...	<b>6</b>	<b>75</b>	<b>60</b>
<b>6</b>	71	66	61	56	51	46	...	<b>40</b>	<b>41</b>	<b>42</b>
<b>7</b>	5	9	13	17	21	25	...	<b>30</b>	<b>28</b>	<b>29</b>
<b>8</b>	61	57	53	49	45	41	...	<b>38</b>	<b>37</b>	<b>40</b>
<b>9</b>	18	23	28	33	38	43	...	<b>48</b>	<b>49</b>	<b>50</b>
<b>10</b>	99	96	93	90	87	84	...	<b>79</b>	<b>81</b>	<b>80</b>
<b>11</b>	59	62	65	68	71	74	...	<b>77</b>	<b>78</b>	<b>79</b>
<b>12</b>	59	56	53	50	47	44	...	<b>41</b>	<b>42</b>	<b>43</b>

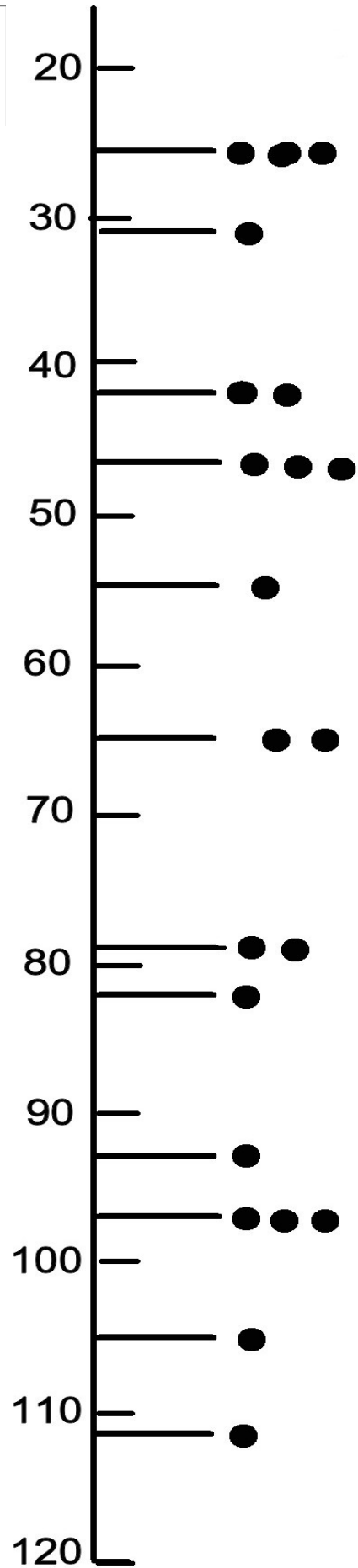
NUMERATION 10 : ajouter ou enlever			Série 26	Groupe 10
	Quel nombre j'obtiens si...	☹	☹ ☹	☹ ☹ ☹
<b>1</b>	j'ajoute une centaine à 348	<b>448</b>	<b>358</b>	<b>359</b>
<b>2</b>	j'ajoute une dizaine à 348	<b>358</b>	<b>458</b>	<b>359</b>
<b>3</b>	j'ajoute une unité à 348	<b>358</b>	<b>359</b>	<b>349</b>
<b>4</b>	j'ôte une dizaine à 724	<b>714</b>	<b>723</b>	<b>624</b>
<b>5</b>	j'ôte une centaine à 724	<b>723</b>	<b>714</b>	<b>624</b>
<b>6</b>	j'ôte une unité à 720	<b>710</b>	<b>721</b>	<b>719</b>
<b>7</b>	j'ajoute une unité à 549	<b>550</b>	<b>559</b>	<b>649</b>
<b>8</b>	j'ajoute une dizaine à 593	<b>603</b>	<b>594</b>	<b>703</b>
<b>9</b>	j'ajoute une centaine à 607	<b>717</b>	<b>617</b>	<b>707</b>
<b>10</b>	j'ôte une dizaine à 100	<b>0</b>	<b>99</b>	<b>90</b>
<b>11</b>	j'ôte une centaine à 100	<b>10</b>	<b>0</b>	<b>90</b>
<b>12</b>	j'ôte une dizaine à 700	<b>690</b>	<b>699</b>	<b>600</b>

NUMERATION 11			Série 26	Groupe 11
	Quel nombre j'obtiens si...	☹	☹☹	☹☹☹
<b>1</b>	j'ajoute une centaine à 456	<b>466</b>	<b>556</b>	<b>656</b>
<b>2</b>	j'ajoute une dizaine à 456	<b>556</b>	<b>466</b>	<b>457</b>
<b>3</b>	j'ajoute une unité à 456	<b>457</b>	<b>466</b>	<b>467</b>
<b>4</b>	j'ôte une dizaine à 708	<b>608</b>	<b>698</b>	<b>707</b>
<b>5</b>	j'ôte une centaine à 111	<b>101</b>	<b>11</b>	<b>91</b>
<b>6</b>	j'ôte une unité à 390	<b>380</b>	<b>389</b>	<b>391</b>
<b>7</b>	j'ajoute une unité à 179	<b>180</b>	<b>170</b>	<b>189</b>
<b>8</b>	j'ajoute une dizaine à 393	<b>493</b>	<b>403</b>	<b>394</b>
<b>9</b>	j'ajoute une centaine à 210	<b>310</b>	<b>220</b>	<b>211</b>
<b>10</b>	j'ôte une dizaine à 300	<b>290</b>	<b>299</b>	<b>200</b>
<b>11</b>	j'ôte une centaine à 222	<b>221</b>	<b>212</b>	<b>122</b>
<b>12</b>	j'ôte une dizaine à 500	<b>400</b>	<b>490</b>	<b>499</b>

NUMERATION 12 : ajouter ou enlever			Série 26	Groupe 12
	Quel nombre j'obtiens si...	☹	☹☹	☹☹☹
<b>1</b>	j'ajoute deux centaines à 348	<b>368</b>	<b>448</b>	<b>548</b>
<b>2</b>	j'ajoute deux dizaines à 348	<b>548</b>	<b>350</b>	<b>368</b>
<b>3</b>	j'ajoute trois unités à 348	<b>378</b>	<b>351</b>	<b>648</b>
<b>4</b>	j'ôte deux dizaines à 724	<b>714</b>	<b>744</b>	<b>704</b>
<b>5</b>	j'ôte deux centaines à 724	<b>722</b>	<b>524</b>	<b>704</b>
<b>6</b>	j'ôte quatre unités à 720	<b>320</b>	<b>680</b>	<b>716</b>
<b>7</b>	j'ajoute trois unités à 547	<b>551</b>	<b>550</b>	<b>577</b>
<b>8</b>	j'ajoute deux dizaines à 583	<b>563</b>	<b>593</b>	<b>603</b>
<b>9</b>	j'ajoute trois centaines à 607	<b>637</b>	<b>907</b>	<b>610</b>
<b>10</b>	j'ôte trois dizaines à 100	<b>97</b>	<b>70</b>	<b>130</b>
<b>11</b>	j'ôte trois centaines à 100	<b>270</b>	<b>0</b>	<b>330</b>
<b>12</b>	j'ôte trois dizaines à 700	<b>470</b>	<b>400</b>	<b>670</b>

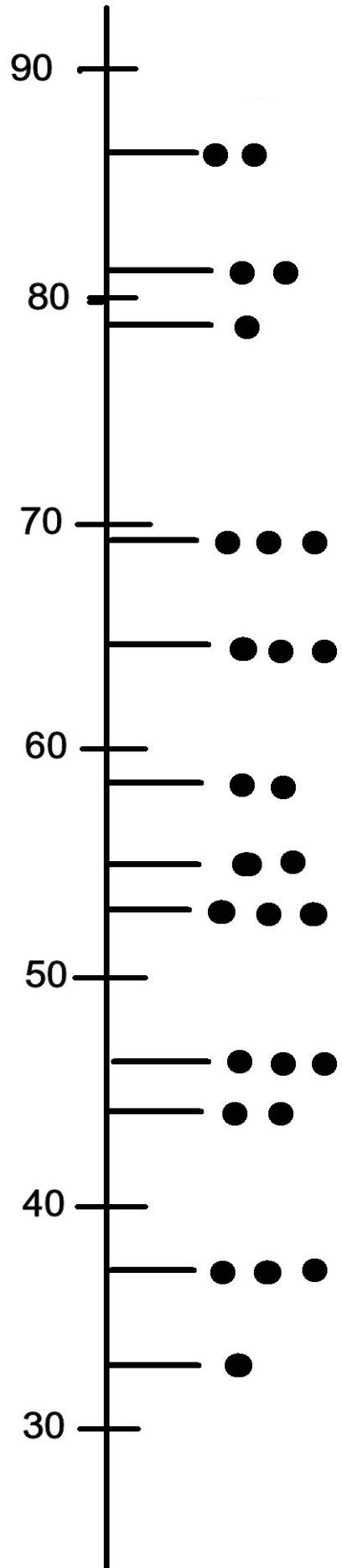
Placer les nombres sur la ligne graduée

1	65
2	79
3	55
4	31
5	47
6	105
7	82
8	93
9	97
10	111
11	26
12	42



Placer les nombres sur la ligne graduée

1	65
2	69
3	81
4	53
5	44
6	79
7	86
8	46
9	58
10	55
11	33
12	37





Placer les nombres sur la ligne graduée

1	412
2	405
3	399
4	414
5	416
6	403
7	407
8	396
9	391
10	388
11	394
12	383

